

天体ドーム予定表

(結城市民情報センター4階)

5月

2025年(令和7年)

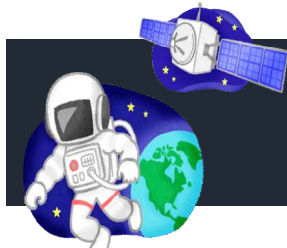
月	月齢	観望する天体
1(木)	3	星雲・星団・火星・木星・月
2(金)	4	太陽・星雲・星団・火星・木星・月
3(土祝)	5	〃
4(日祝)	6	〃
5(月祝)	7	〃
6(火祝)	8	〃
8(木)	10	星雲・星団・火星・木星・月
9(金)	11	〃
10(土)	12	特別観望
11(日)	13	太陽
15(木)	17	星雲・星団・火星・木星
16(金)	18	〃
17(土)	19	太陽・星雲・星団・火星・木星
18(日)	20	太陽(午後コスミックスタディー)
22(木)	24	星雲・星団・火星・木星
29(木)	2	星雲・星団・火星・月
30(金)	3	〃
31(土)	4	太陽・星雲・星団・火星・月
木・金	18:00~19:50	
土・祝	14:00~16:20(昼の部)	
	17:30~19:50(夜の部)	
日	9:00~11:50(午前の部)	
	13:30~15:20(午後の部)	

いんぷおめーしょん!

★上旬には、明け方、東の空に土星と金星(明けの明星)が観られます。

★人工衛星をさがそう!
ISS(国際宇宙ステーション)
HST(ハubble宇宙望遠鏡) など…

見える日時と方角、衛星の情報を提供いたします。



ヒューマンドーム.com

この問題解けるかな? 考えてみよう!

(8) 図1のAはある日の午後8時のオリオン座の位置を、図2のBは同じ日の午後10時のカシオペア座の位置を模式的に示している。オリオン座が図1のAにあるときのカシオペア座はう、えのどちらの位置にあるか。また、カシオペア座が図2のBにあるときのオリオン座はあ、いのどちらの位置にあるか。その組み合わせとして最も適切なものを、下のア~エの中から1つ選んで、その記号を書きなさい。

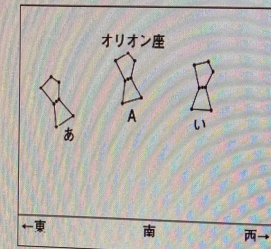


図1

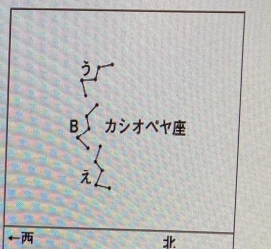


図2

	カシオペア座	オリオン座
ア	う	あ
イ	う	い
ウ	え	あ
エ	え	い

令和7年度 茨城県立高校入試問

問題が周運動(見かけの運動)の理解を診る。日周運動(見かけの運動)の理解を診る。南天の星座と併せて北極星を中心に北の星座も観察の対象になりますね。(コスミックスタディー) ドーム長

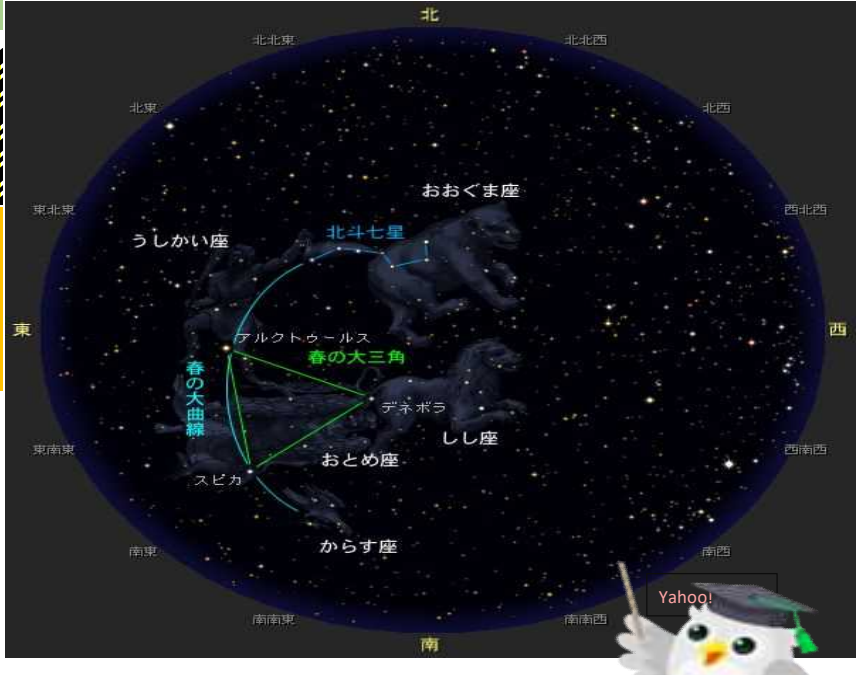
※特別観望 5月10日(土)
(夜) 18:00~20:50
テーマ
「宇宙の広がりを感じよう」

★天体観望について★

- ・ドームへの入場制限が実施される場合があります。
- ・咳や発熱の症状のみられる方、体調のすぐれない方は入場をご遠慮ください。

♡ ハートフルプラネタリウムを公開しています♡

- 天候や時間帯により観望ができないときは施設見学やプラネタリウム番組の上映をいたします。
- 科学についての質問などお受けいたします。
- 日程は急遽変更になることがあります。



星空に春の大曲線と大三角を探そう

TEL: 0296-34-0150 URL: <http://infoyuki.ycsf.or.jp/>

